

Nom: Prénom:.....Classe:.....

Évaluation de sciences physiques

Compétences évaluées	Bilan
C.0. Je restitue mes connaissances	
C.1. Je pratique des démarches scientifiques	
C.4. J'utilise la langue française	
C.5. J'utilise des langages scientifiques.	

Exercice n°1 :

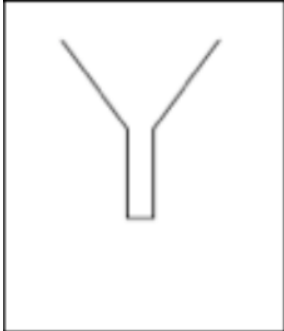
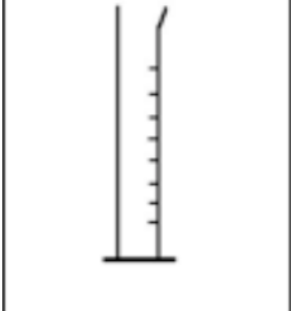

1) Citer les trois états de l'eau.

Les trois états de l'eau sont; le solide, le liquide et la vapeur.

2) Citer deux exemples, de phénomènes météorologiques, où l'eau se trouve dans l'état solide.

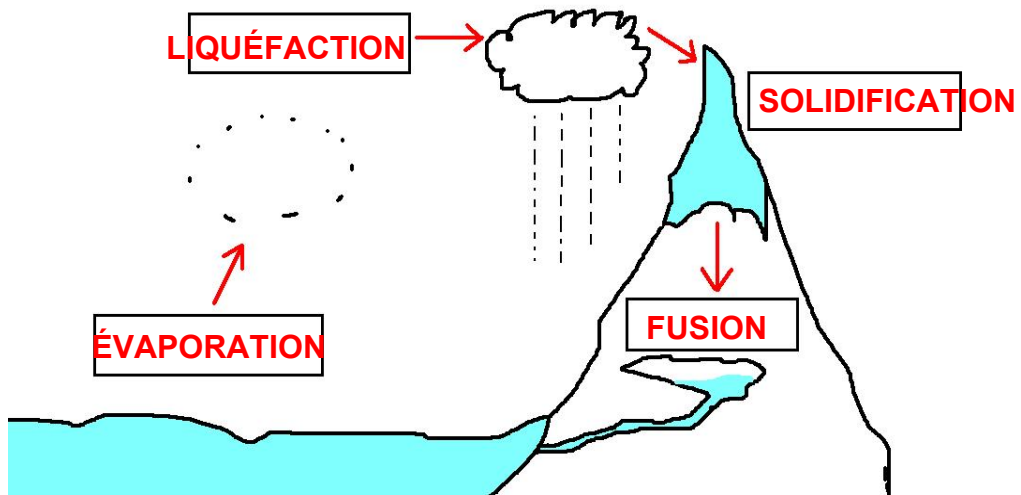
L'eau peut se trouver dans l'état solide lorsqu'il gèle, lorsqu'il neige ou bien lors de la formation du verglas.

3) Schématiser et légender trois éléments de la verrerie de son choix.

<p>Entonnoir</p> 	<p>Éprouvette graduée</p> 	<p>Ballon à fond plat</p> 
--	---	---

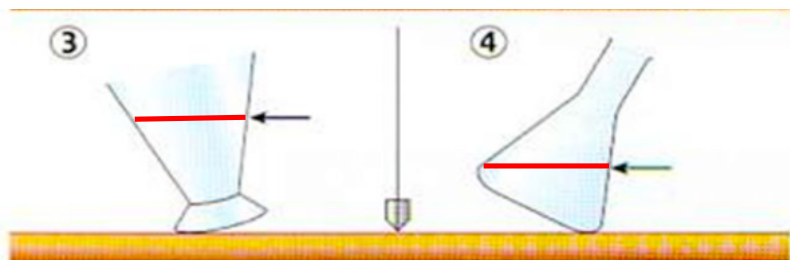
Exercice n°2 :

Compléter, dans les quatre rectangles, les noms des transformations des états de l'eau.



Exercice n°3 :

Représenter la surface libre de l'eau liquide au repos, dans les deux récipients.



Exercice n°4:

Légénder le dessin ci-dessous, avec les mots suivants: eau liquide, eau vapeur, liquéfaction, vaporisation.

