

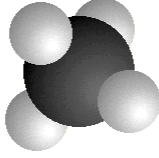

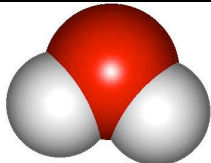

Activité Expérimentale
Le modèle moléculaire

Compétences travaillées

C.0. Je restitue mes connaissances

C.5. J'utilise des langages scientifiques

Compléter les tableau ci-dessous à partir des modèles moléculaires réalisés.

Nom de la molécule	Formule chimique de la molécule	Schéma de la molécule
Méthane	CH_4	
Dioxyde de carbone	CO_2	
Eau	H_2O	
Éthane	C_2H_6	
Dioxygène	O_2	